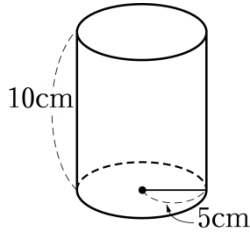




年 組 番 氏名

1. 次の立体の表面積を求めなさい。

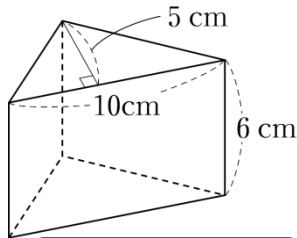
円柱



cm^2

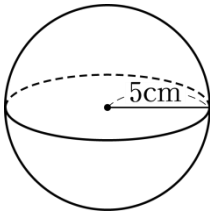
2. 次の立体の体積を求めなさい。

三角柱



cm^3

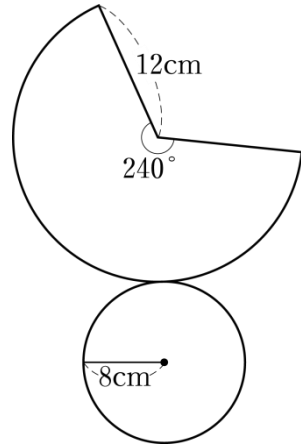
3. 半径 5 cmの球の表面積と体積を求めなさい。



表面積
 cm^2

体積
 cm^3

4. 下の図は、円錐の展開図です。この円錐について、次の問に答えなさい。



① 底面積を求めなさい。

cm^2

② 側面積を求めなさい。

cm^2

③ 表面積を求めなさい。

cm^2